

NOM :

CLASSE :

Chapitre 12

Aide pour compléter le croquis de l'aire urbaine de Rennes


Consignes à imprimer

➤ Manuel p. 220-221
Parcours 2 p. 221

Itinéraire 1

► À l'aide des documents, complétez le croquis et sa légende en respectant les indications suivantes :


- identifiez et localisez à l'aide de couleurs les différents espaces composant l'aire urbaine rennaise ;
- donnez des éléments de description et d'explication dans les cases grises ;
- identifiez les espaces hachurés ;
- identifiez la signification des figurés linéaires et ponctuels associés aux axes de transport.

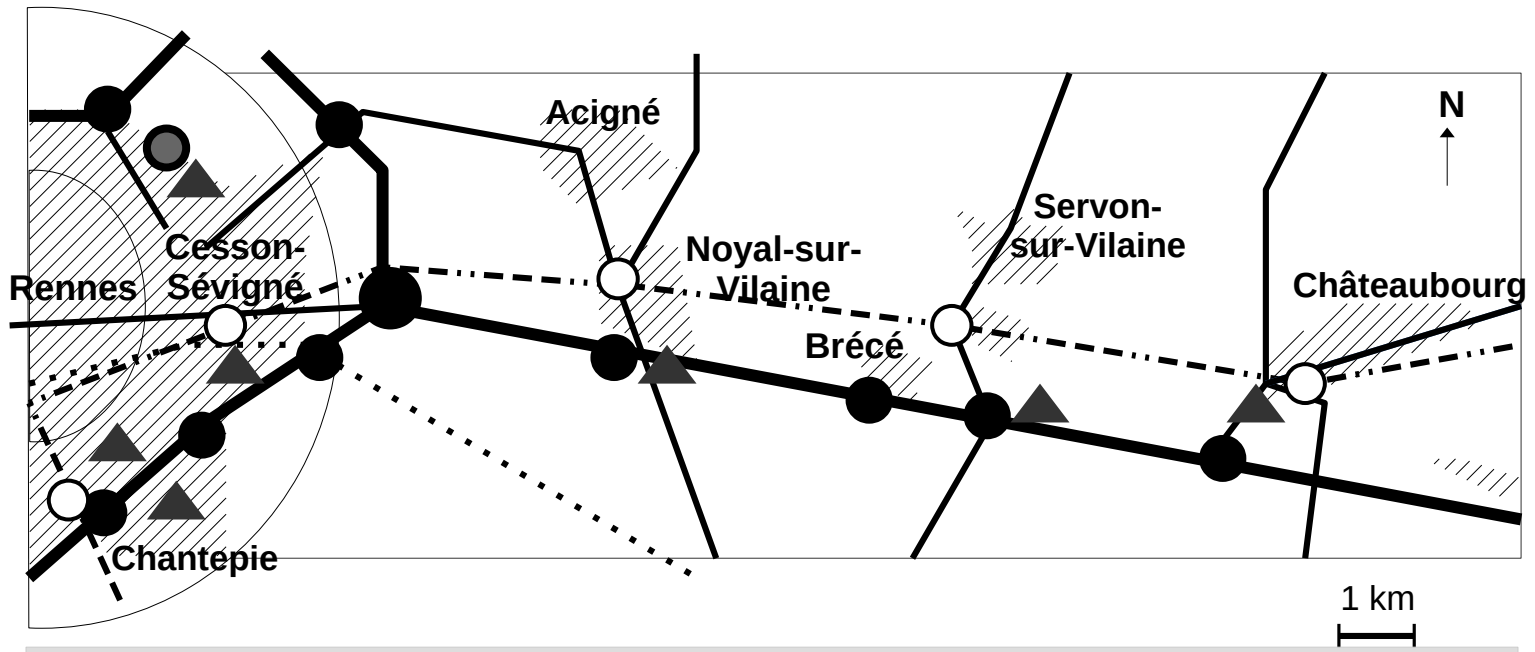


Itinéraire 2

► À l'aide des documents, complétez le croquis et sa légende en respectant les indications suivantes :

- à l'aide des couleurs proposées, identifiez les différents espaces composant l'aire urbaine rennaise ;
- donnez des éléments de description et d'explication dans les cases grises ;
- identifiez les espaces hachurés ;
- identifiez la signification des figurés linéaires et ponctuels associés aux axes de transport.





Pôle urbain : _____

- Ville-centre
- Autre agglomération du pôle urbain située dans la banlieue

Couronne périurbaine : _____

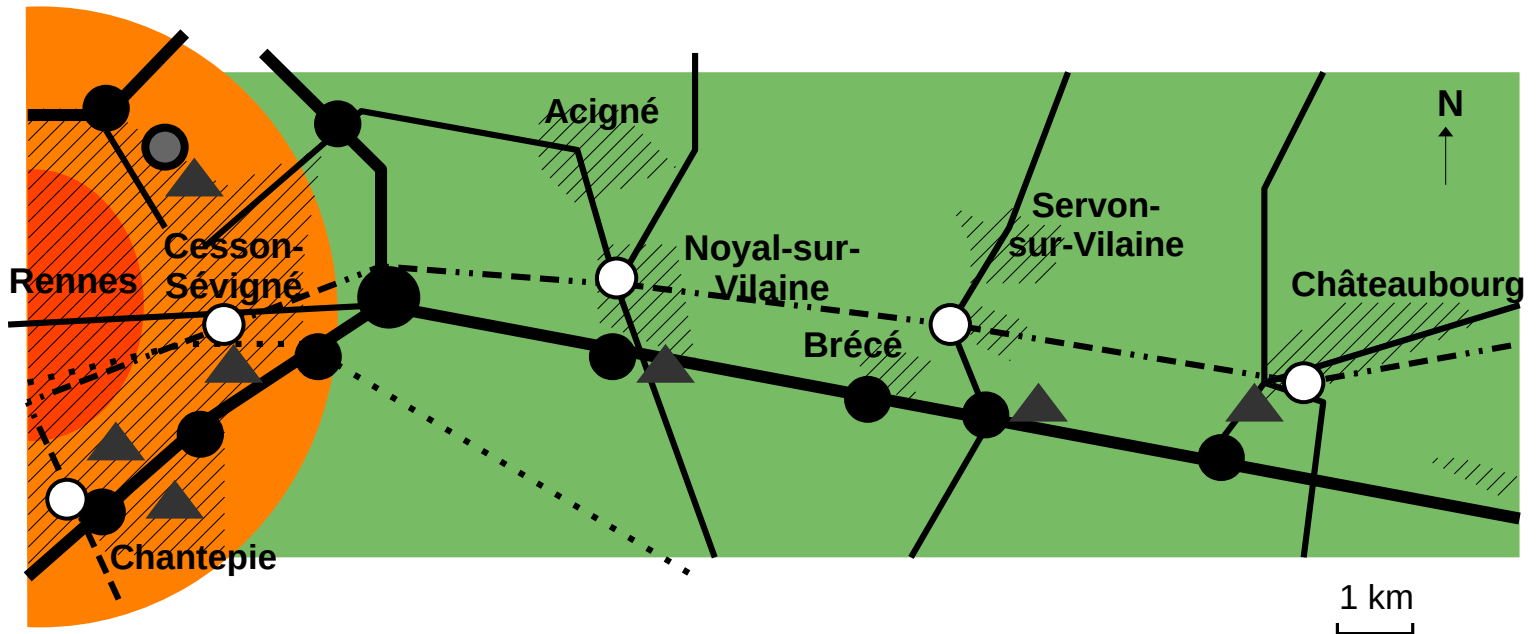
- Agglomération construite en continue
- Zones industrielles et/ou commerciales

Axes de transport locaux _____

- _____
- _____
- _____
- _____
- _____

Axes de transport nationaux _____

- _____
- _____



Pôle urbain : _____



Ville-centre



Autre agglomération du pôle urbain située dans la banlieue



Couronne périurbaine : _____



Agglomération construite en continue



Zones industrielles et/ou commerciales

Axes de transport locaux _____







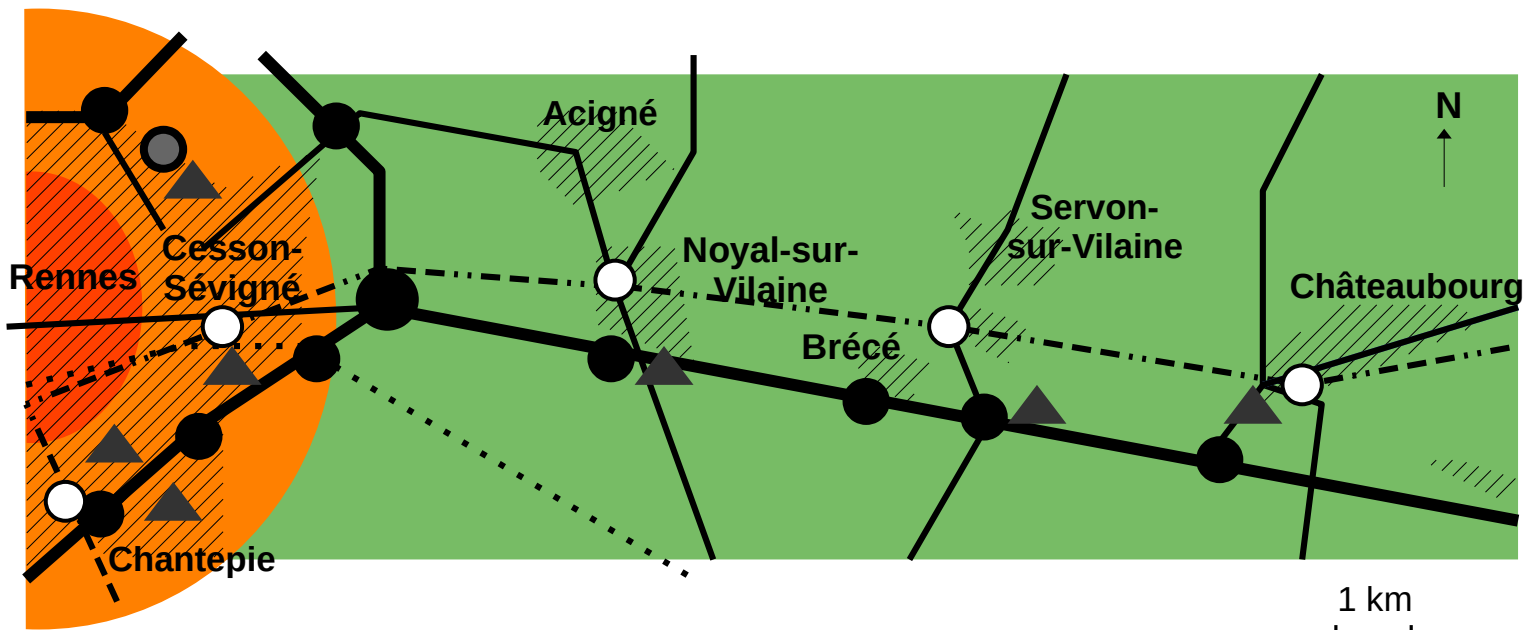




Axes de transport nationaux _____







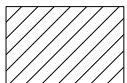
_____ : espace le plus peuplé et le plus densément construit qui offre le plus d'emplois et de services.







_____ : espace de densité plus faible composé de communes dont au moins 15 % des actifs travaillent dans le pôle urbain. Le plus faible coût des logements et donc la possibilité d'avoir une maison individuelle, la proximité et l'accessibilité du pôle urbain et un cadre de vie jugé plus agréable rendent ces communes attractives notamment pour les familles.





_____ permettent aux navetteurs d'effectuer les déplacements quotidiens notamment entre leur domicile et leur lieu de travail. La voiture est largement le moyen de transport le plus utilisé.











_____ permettent à l'aire urbaine rennaise d'être connectée aux autres aires urbaines, à Paris et à l'ensemble du territoire métropolitain.

